

だい1回 算数れんしゅうプリント 小学2年生 その1

名前

1. 計算をしましょう

(1) $2 + 6$

(2) $5 + 5$

(3) $0 + 3$

(4) $10 + 2$

(5) $6 + 8$

(6) $9 - 5$

(7) $4 - 0$

(8) $17 - 7$

(9) $11 - 9$

(10) $12 - 7$

だい1回 算数れんしゅうプリント 小学2年生 その2

2. なんじなんふんですか

(11)



(12)

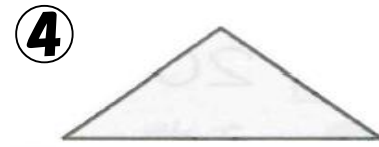

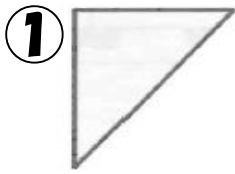


(13)



() () ()

3. なかまのかたちはどれとどれですか



(14)




と



(15)



と



4. たし算をしましょう

(16) **68** + **10**

(17) **31** + **30**

(18) **19** + **80**

(19) **76** + **20**

(20) **47** + **50**

だい1回 算数れんしゅうプリント 小学2年生 こたえ

(1) 8

(2) 10

(3) 3

(4) 12

(5) 14

(6) 4

(7) 4

(8) 10

(9) 2

(10) 5

(11) 7じ30ぶん

(12) 10じ42ぶん

(13) 4じ10ぶん

(14) ①と④(②と③)

(15) ②と③(①と④)

(16) 78

(17) 61

(18) 99

(19) 96

(20) 97

だい2回 算数れんしゅうプリント 小学2年生 その1

名前

1. 計算をしましょう

(1) $3 + 6$

(2) $4 + 4$

(3) $0 + 2$

(4) $10 + 5$

(5) $7 + 8$

(6) $8 - 7$

(7) $9 - 0$

(8) $16 - 6$

(9) $12 - 7$

(10) $17 - 8$

だい2回 算数れんしゅうプリント 小学2年生 その2

2. □にあてはまるかずをかきましょう

(11) **47** は **10**が こと **1**が こ

(12) **31** は **10**が こと **1**が こ

(13) **10**が **8** こと **1**が **3** こ で

(14) 十のくらいが **5**、一のくらいが **9** のかずは

(15) **99** より **1** おおきいかずは

3. たし算をしましょう

(16) **78** + **10**

(17) **42** + **30**

(18) **18** + **80**

(19) **74** + **20**

(20) **37** + **50**

だい2回 算数れんしゅうプリント 小学2年生 こたえ

(1) 9

(2) 8

(3) 2

(4) 15

(5) 15

(6) 1

(7) 9

(8) 10

(9) 5

(10) 9

(11) 4 , 7

(12) 3 , 1

(13) 83

(14) 59

(15) 100

(16) 88

(17) 72

(18) 98

(19) 94

(20) 87

だい3回 算数れんしゅうプリント 小学2年生 その1

名前

1. 計算をしましょう

(1) $8 + 1$

(2) $3 + 3$

(3) $0 + 7$

(4) $11 + 2$

(5) $5 + 7$

(6) $7 - 5$

(7) $7 - 0$

(8) $17 - 9$

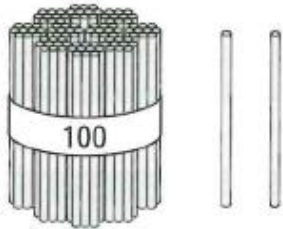
(9) $15 - 8$

(10) $11 - 5$

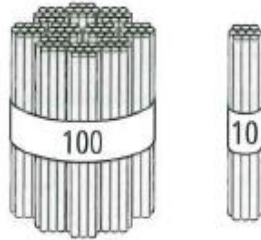
だい3回 算数れんしゅうプリント 小学2年生 その2

2. なんぼんあいますか、かずをすうじでかきましょう

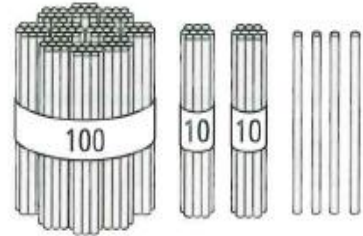
(11)



(12)



(13)



3. あ と い のめもいがあらかずかずをかきましょう



(14)

あ

(15)

い

4. たし算をしましょう

(16) $66 + 10$

(17) $31 + 40$

(18) $22 + 60$

(19) $26 + 30$

(20) $37 + 60$

だい3回 算数れんしゅうプリント 小学2年生 こたえ

(1) 9

(2) 6

(3) 7

(4) 13

(5) 12

(6) 2

(7) 7

(8) 8

(9) 7

(10) 6

(11) 102

(12) 110

(13) 124

(14) 50

(15) 53

(16) 76

(17) 71

(18) 82

(19) 56

(20) 97

だい4回 算数れんしゅうプリント 小学2年生 その1

名前

1. 計算をしましょう

(1) $5 + 6$

(2) $2 + 2$

(3) $0 + 7$

(4) $11 + 2$

(5) $9 + 8$

(6) $6 - 5$

(7) $9 - 0$

(8) $17 - 5$

(9) $19 - 5$

(10) $11 - 4$

だい4回 算数れんしゅうプリント 小学2年生 その2

2. 計算をしましょう

(11) $3 + 1 + 2$

(12) $2 + 4 + 5$

(13) $14 - 4 - 5$

(14) $7 - 5 + 6$

(15) $3 + 4 - 5$

3. たし算をしましょう

(16) $78 + 10$

(17) $21 + 40$

(18) $17 + 40$

(19) $46 + 30$

(20) $77 + 20$

だい4回 算数れんしゅうプリント 小学2年生 こたえ

(1) 11

(2) 10

(3) 7

(4) 13

(5) 17

(6) 1

(7) 9

(8) 12

(9) 14

(10) 7

(11) 6

(12) 11

(13) 5

(14) 8

(15) 2

(16) 88

(17) 61

(18) 57

(19) 76

(20) 97

だい5回 算数れんしゅうプリント 小学2年生 その1

名前

1. 計算をしましょう

(1) $5 + 3$

(2) $8 + 8$

(3) $0 + 5$

(4) $8 + 4$

(5) $9 + 5$

(6) $5 - 1$

(7) $3 - 0$

(8) $17 - 4$

(9) $11 - 8$

(10) $15 - 7$

だい5回 算数れんしゅうプリント 小学2年生 その2

2. □にあてはまるかずをかきましょう

(11) 5 は 1 と

(12) 9 は 4 と

(13) 6 は 1 と

(14) 10 は 1 と

(15) 10 は 3 と

3. たし算をしましょう

(16) 87 + 10

(17) 22 + 20

(18) 34 + 50

(19) 64 + 30

(20) 57 + 40

だい5回 算数れんしゅうプリント 小学2年生 こたえ

(1) 8

(2) 16

(3) 5

(4) 12

(5) 14

(6) 4

(7) 3

(8) 13

(9) 3

(10) 8

(11) 4

(12) 5

(13) 5

(14) 9

(15) 7

(16) 97

(17) 42

(18) 84

(19) 94

(20) 97
